

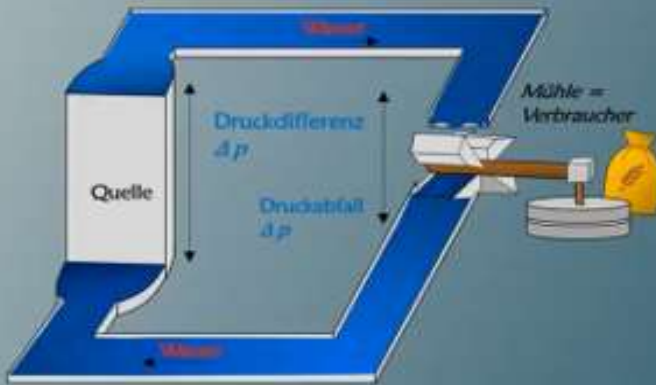
Name:

Klasse:

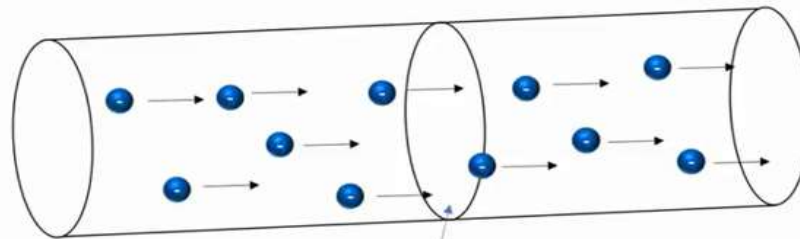
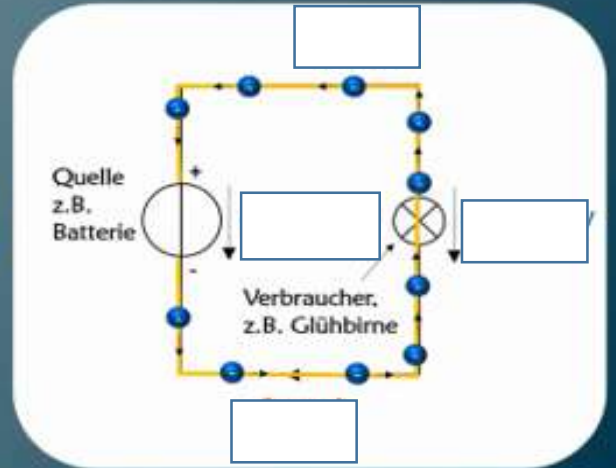
Datum:

Blatt Nr.: 1 / 2 lfd. Nr.:

Wassermodell



Stromkreis




Die elektrische Stromstärke ist:

Die Anzahl von _____,

die _____

durch einen _____,

pro _____ fließen

| | | | |
|---|--------------------------------|--------|----------------------------|
|  | Elektrische Stromstärke | | Elektrotechnik Labor |
| Name: | Klasse: | Datum: | Blatt Nr.: 2 / 2 lfd. Nr.: |

Formelzeichen:

Einheit:

Typische Stromgrößen:

1 μ A

10mA

30mA

100mA

1A

10A

100A

1000A

Der elektrische Strom

